


V 判定テスト 社会6



第4回

受験番号と氏名を解答用紙に正しく書きなさい。答えは解答用紙に書きなさい。

1 次の(1)～(4)の各問いに答えなさい。

(1) 国際連合が行っていない活動を次から選び、記号で答えなさい。

- ア 発展途上国の開発促進のために、南北の国々が対話、協議します。
- イ 発展途上国に学校などをつくり、子どもたちに人間らしい生活が営めるよう教育を普及^{ふきゅう}させています。
- ウ 地球環境を破壊する多くの原因を明らかにし、「人間と環境」について話し合っ^てて、多くの国の環境政策に影響をおよぼしています。
- エ 子どもの人権について話し合い、子どもの思想、意見表明権などについて、これらの権利を保障するよう各国^{かんこく}に勧告^{かんこく}しています。
- オ 農産物の価格が世界中で一定化するよう^に、生産量と農産物価格について監視しています。

(2) 地球的規模の環境破壊について、次の問いに答えなさい。

① 環境破壊は、さまざまな要因によって引き起こされています。その原因と結果の組み合わせとして、正しくないものを次から選び、記号で答えなさい。

- ア 化石燃料の消費→大気汚染(酸性雨)
- イ フロンガス→オゾン層の破壊
- ウ 二酸化炭素→地球の寒冷化
- エ 熱帯雨林^{ばっさい}の伐採→砂漠化

② 大気中の二酸化炭素の濃度をおさえることに役立ち、資源再利用(リサイクル)を促すことにもなることを次から選び、記号で答えなさい。

- ア 国土緑化運動に参加し、放課後を利用して校内緑化を行います。
- イ つり銭で得た1円硬貨を募金し、難民救済基金に寄付します。
- ウ 不要の新聞・雑誌などを、古紙として回収する運動を行います。
- エ 学校周辺の清掃を行い、落ち葉や可燃ゴミは焼いて処分します。

(3) 南北問題を協議することを主な目的として、1964年に設けられた機関を次から選び、記号で答えなさい。

- ア 国際労働機関(ILO)
- イ 国連児童基金(UNICEF)
- ウ 国際通貨基金(IMF)
- エ 国連貿易開発会議(UNCTAD)

(4) 2005年度ノーベル平和賞を受賞した国際機関をI群から選び、記号で答えなさい。また、その機関に最も関係の深い条約をII群から選び、記号で答えなさい。

【I群】 ア WHO イ UNESCO ウ IAEA エ ASEAN

【II群】 ア 部分的核実験停止条約 イ 核拡散防止条約
ウ 中距離核戦力全廃条約 エ 包括的核実験禁止条約

2 次の文を読んで、あとの問いに答えなさい。

日本国憲法は、立法権を ^a国会に、行政権を内閣に、司法権を ^b裁判所にというように、三つの権力をそれぞれ別個の機関に分けています。このしくみを、 といいます。

日本国憲法は、国の政治が「国会における を通じて」(前文)行われることを定めています。この代議制(間接民主制)において、特にたいせつな政治参加の方法が ^c選挙です。選挙は、国民の を選出したり、政党を選択したりすることによって、その後の政治の方向に大きな影響をおよぼすからです。

国会は、^d衆議院と参議院から成っており、これを二院制といいます。二院制は、両院がたがいに抑制し合うことによって、国民のさまざまな意見や利益を政治に反映させるうえで優れている、という考え方によるものです。

^e二院制の長所を生かすため、両院の議員数・任期・^f選挙区・被選挙権などに違いが設けられています。

国会は、毎年1回の通常国会(常会)が開かれます。このほか、必要に応じて臨時国会(臨時会)や、特別国会(特別会)が開かれることがあります。

(1) にあてはまることばを次から選び、記号で答えなさい。

ア 国民主権 イ 三権分立 ウ 平和主義 エ 基本的人権の尊重

(2) にあてはまることばを次から選び、記号で答えなさい。

ア 代理人 イ 責任者 ウ 国会議員 エ 代表者

(3) 下線部 a について、次の問いに答えなさい。

① 次の文の (C) にあてはまる数を算用数字で答えなさい。

両議院の本会議においては、議事を開き、議決するために必要最小限度の出席数が定められています。これを定足数といい、^{おのおの}各々その総議員の (C) 分の1以上の出席を必要とします。

② 予算などについて、衆議院と参議院とが異なった議決をした場合、両議院から選出された委員により、両議院の意見の一致をはかるように開かれる会を何といいますか。

③ 予算について、衆議院で可決した予算案を、参議院が受け取った後、国会休会中の期間を除いて30日以内に議決しないときは、どうなりますか。正しいものを次から選び、記号で答えなさい。

ア 衆議院の議決が、国会の議決となります。
イ 参議院がその予算案を否決したものとみなし、^{はいあん}廃案となります。
ウ 衆議院で、出席議員の3分の2以上の多数で再議決すれば成立します。
エ 衆議院で、出席議員の過半数で再議決をすれば、予算として成立します。

④ 予算のほかに、両議院の意見が一致しないときなどに、憲法で衆議院の優越が認められているものを次から2つ選び、記号で答えなさい。

ア 国政の調査 イ 条約の承認 ウ 憲法改正の発議 エ ^{だんがい}弾劾裁判所の設置
オ 内閣総理大臣の指名

(4) 下線部 b について、最高裁判所について述べた文として、正しいものを次から選び、記号で答えなさい。

ア 最高裁判所の長官以外の裁判官は、内閣が任命します。
イ 最高裁判所の長官は、国会の指名にもとづいて天皇が任命します。
ウ 最高裁判所の裁判官は、その任命後初めて行われる参議院議員選挙のとき国民により審査されます。
エ 最高裁判所は、^{いっさい}一切の法律・命令・規則または外国と結んだ条約が、憲法に適合するかしないかを決定する権限を有する終審裁判所です。

(5) 下線部cについて、次の問いに答えなさい。

① 選挙の方法，選挙区，選挙運動，選挙管理機関などを定めている法律の名を答えなさい。

② 次のア～エのことがらのうち，現在，わが国のすべての公の選挙で行われているものを選び，記号で答えなさい。

ア 公開選挙 イ 間接選挙 ウ 普通選挙 エ 比例代表制

(6) 下線部dについて、次の文を読んで、下の問いに答えなさい。

第44回衆議院議員総選挙は、2005年8月8日の 民営化法案否決を受け、第2次小泉改造内閣が衆議院を解散したことにともなって行われた選挙です。

8月30日に公示され、9月11日に投開票が行われました。この選挙は、小選挙区比例代表 制によって行われました。

投票率は、小選挙区が().51%(前回衆院選59.86%)、比例代表が().46%(同59.81%)でした。期日前投票は8,962,955人(有権者のうち8.67%)と、国政選挙で最高を記録し、国民の関心の強さをうかがわせました。

開票結果は、与党が327議席(党が296議席・ 党が31議席)と圧倒的勝利を収めました。

① ・ にあてはまることばをそれぞれ答えなさい。

② ()にあてはまる数を次から選び，記号で答えなさい。

ア 27 イ 47 ウ 67 エ 87

③ ・ にあてはまる政党名の組み合わせとして，正しいものを次から選び，記号で答えなさい。

ア G=自民，H=民主 イ G=自民，H=公明
ウ G=民主，H=自民 エ G=民主，H=公明

(7) 下線部eの二院制の長所について述べた文として，正しいものを次から選び，記号で答えなさい。

ア 両議院で議案を二等分し，能率よく審議をすすめることができます。
イ あやまちやゆきすぎがないように，慎重に審議できます。
ウ 衆議院が解散中でも，参議院は臨時国会を開くことができます。
エ 一方の議院の審議に他方の議院の議員が参加して，審議に協力できます。

(8) 下線部fについて、次の問いに答えなさい。

① 小選挙区制について述べた文として，正しくないものを次から選び，記号で答えなさい。

ア 選挙費用が比較的少なくてすみませす。
イ 選挙人が候補者をよく知ることができます。
ウ 同一政党の同士討ちを避け，政策本位の選挙がしやすくなります。
エ 死票が少なく，国民の意思が議会に公平に反映されます。

② わが国の比例代表制においては，ドント式(ベルギーの法学者ドント氏が考案した比例計算方式)が採用されています。このドント式は，総得票数を1，2，3…と整数で割っていき，答え(商)が大きい政党の順に議席を割りあてていく方法です。そして，整数で割っていった得票数の大きさの順に，定数までを当選とします。いま，議員定数を5名として，各政党の得票数が次の表Iのようであったとします。この場合，各政党は何議席ずつ獲得できますか。右の表IIから正しい組み合わせを選び，記号で答えなさい。

【表I】

政党	A党	B党	C党	D党
得票数	10000票	5500票	3500票	1000票

【表II】

	A党	B党	C党	D党
ア	3	2	0	0
イ	3	1	1	0
ウ	2	2	1	0
エ	2	1	1	1

3 次の【1】～【7】の文は、日本の農村の移り変わりを簡単にまとめたものです。これらの文を読んで、あとの問いに答えなさい。

【1】

公地公民の制がしかれ、6年ごとにつくられる戸籍によって、(A)歳以上の男子には2段、女子にはその3分の2の口分田があたえられ、租・庸・a調などの税を負担しました。さらに、男子には兵役に服する義務もあり、農民の生活は苦しいものでした。

【2】

bこの時代、武士について農民は大事にされましたが、これは武士の生活が農民の年貢によってまかなわれていたからにすぎません。実際の農民の生活は、土地にしばりつけられ、土地を売ったり米以外の作物をつくったりすることも禁止されていました。日常生活においても「c酒や茶を買って飲んではならない。麻と木綿以外のものを着てはならない。たばこをのんではならない」などというように、細かく制限されていました。

【3】

産業の発達にともなって、農村にも大きな変化があらわれました。有力な農民のなかには d商業を営んだり、武士となったりするものも現れました。このような有力農民を中心として、農民は広い地域にわたって結びつくようになり、名主を中心にして e新しい村づくりを進めていきました。

【4】

fこの時代には律令制がくずれ、各地に B とよばれる貴族や寺社の私有地が広がるとともに、生活に苦しむ農民たちはその中に流れこんで、貴族・寺社の支配に従いました。また、広い土地を所有する農民も、その土地を中央の有力な貴族や寺社に寄進きしんしました。

【5】

農民は土地の所有権を認められ、その土地の値段の一定率を税として、現金で納めることになりました。しかし、小作人に土地の所有権がなく、重い小作料を地主に納めなければなりませんでした。

【6】

農業を国の基本だと考えた豊臣秀吉は、村ごとに田畑を調べ、収穫高を石高で表し、また、耕地ごとの耕作者を決め、年貢を負担させました。これを C といいます。

【7】

民主化政策の一つとして D が行われ、地主の持っていた土地は一定の土地を残して国が買い上げ、これを g小作人に安く売り渡しました。これによって、農村における封建的な地主制度は完全にくずれていきました。

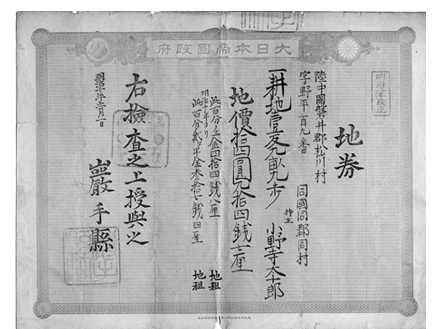
(1) (A)にあてはまる数を算用数字で答えなさい。

(2) B ～ D にあてはまることばをそれぞれ答えなさい。


(3) 右の資料に最も関係の深い文を選び、番号で答えなさい。また、この資料と関係の深い政策を何といいますか。漢字4字で答えなさい。

(4) 下線部 a について、「調」とはどのような税のことですか。正しく述べているものを次から選び、記号で答えなさい。

- ア 男子が負担するもので、労役のかわりに布を納めるものです。
- イ 男子が負担するもので、布や地方の特産物を納めるものです。
- ウ 田の面積に対して、一定量の稲を納めるものです。
- エ 女子が負担するもので、一定量の特産物を納めるものです。



(5) 下線部 b について、この時代に使われはじめ、農作業の能率を高めたものを次から選び、記号で答えなさい。



(6) 下線部 c について、この決まりに最も関係の深いものを次から選び、記号で答えなさい。

- ア 大宝律令 イ 徳政令 ウ (慶安の)御触書 エ 公事方御定書

(7) 下線部 d について、このとき使われていた貨幣を次から選び、記号で答えなさい。



(8) 下線部 e について、「新しい村」について述べた文として、正しくないものを次から選び、記号で答えなさい。

- ア 五人組のしくみをつくりました。 イ 一揆を起こしたりしました。
 ウ 神社などで寄合を開きました。 エ 惣とよばれる自治的な組織をつくりました。

(9) 下線部 f について、この時代のようにすについて述べた文として、正しくないものを次から選び、記号で答えなさい。

- ア 阿弥陀仏にすがって極楽浄土に生まれ変わろうという、浄土信仰が広がりました。
 イ 最澄は、比叡山に延暦寺を建てて天台宗を、空海は、高野山に金剛峯寺を建てて真言宗を広めました。
 ウ 白河天皇は、位を幼い皇子にゆずり、上皇となってからも院で政治をとり続けました。
 エ 地頭がおかれた荘園では、農民は、荘園領主と地頭の二重の支配を受けることになりました。

(10) 下線部 g について、D が行われる以前の「小作人」についてあてはまらないものを次から選び、記号で答えなさい。

- ア 小作料は現物で納めました。 イ 職業を選ぶ自由はありませんでした。
 ウ 徴兵(兵役)を免除されていました。 エ 居住地を勝手に離れることは禁止されていました。

(11) 【5】の文が述べていることがらは、次の表のどの時期にあたりますか。表の ア～キ から選び、記号で答えなさい。

世紀	7	8	9	10	11	12	13	14	15	16	17	18	19	20
記号	ア			イ				ウ		エ	オ		カ	キ

4 右下の地図を見て、次の問いに答えなさい。

(1) 次のⅠ，Ⅱの文にあてはまる地域を右の地図からそれぞれ選び、A～Hの記号で答えなさい。

Ⅰ この地域は、日本なしの生産が多く、日本なしの栽培とともに、スプリンクラーを利用した野菜づくりなどもさかんです。

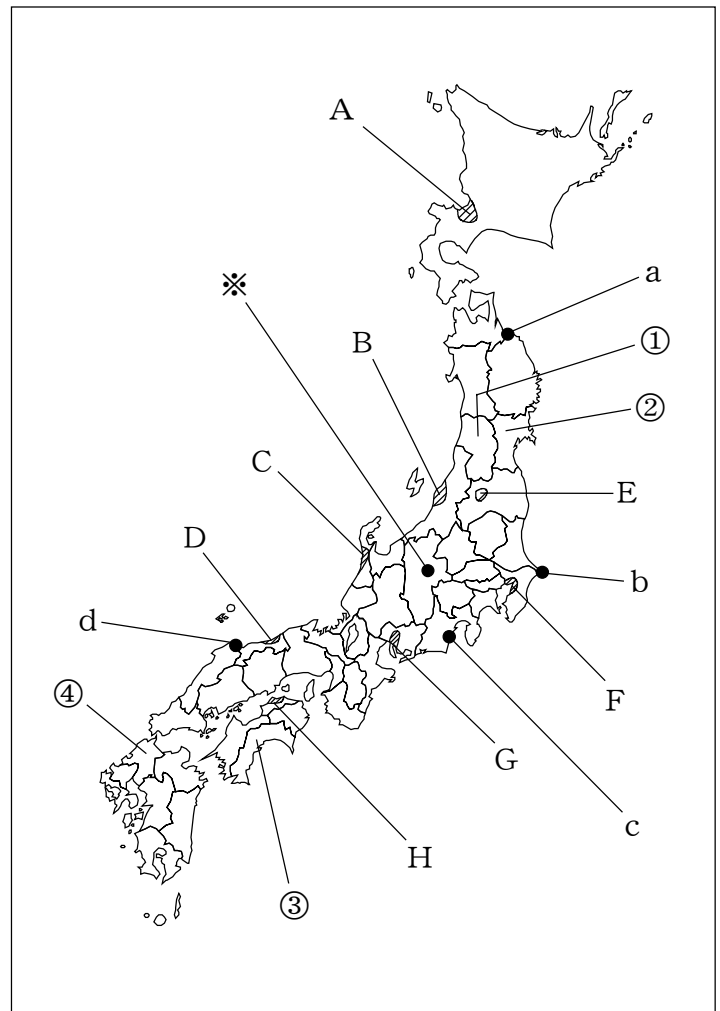
Ⅱ この地域では、明治の初期に畑作と酪農中心の開発が進められましたが、その後、泥炭地でんたんちの改良が進み、稲作も行われています。

(2) 地図に示した※の県(松本市)の気温と降水量を表しているものを右下のグラフ(雨温図)から選び、記号で答えなさい。

(3) 地図に示したa～dの漁港のうち、遠洋漁業の代表的な基地で、かつお・まぐろの水揚げ量が最も多い漁港を選び、記号で答えなさい。

(4) 地図に示したD～Hの地域について、鉄鋼と陶磁器の生産がさかんな地域の組み合わせとして、正しいものを次から選び、記号で答えなさい。

- ア E－鉄鋼・G－陶磁器
- イ H－鉄鋼・D－陶磁器
- ウ D－鉄鋼・H－陶磁器
- エ F－鉄鋼・G－陶磁器



(5) 次の文は、地図に示したB～Fのいずれかの地域を述べたものです。あてはまる地域のある県の名を漢字で答えなさい。

この地域は、新幹線や高速自動車道が通っており、水・電力なども豊富で、近代的な工業が発達しています。特に北東部では、原油や天然ガスが産出されています。

(6) 次の表Ⅰは、地図に示した①，②，③，④の各県の特徴を示したものです。W～Zの県名の組み合わせとして、正しいものを下の表Ⅱから選び、記号で答えなさい。

【表Ⅰ】

県名	W	X	Y	Z
人口(千人)	4933	2329	1257	817
人口増加率(%)	2.5	3.6	-0.1	-1.0
工業生産額(億円)	77115	36330	25448	6975

(2005/06年版『日本国勢図会』)

【表Ⅱ】

	W	X	Y	Z
ア	宮城県	山形県	福岡県	高知県
イ	宮城県	福岡県	高知県	山形県
ウ	福岡県	宮城県	山形県	高知県
エ	福岡県	宮城県	高知県	山形県

