

## MONTHLY TEST

## 社会 5 12月号



受験番号と氏名を解答用紙に正しく書きなさい。答えは解答用紙に書きなさい。

1 右下の年表を見て、次の問いに答えなさい。

(1) 年表中の(※)にあてはまる年を算用数字で答えなさい。

(2) 下線部 a について、次の問いに答えなさい。

① この建白書を提出した人物を次から選び、記号で答えなさい。

- |                                  |                                    |
|----------------------------------|------------------------------------|
| ア <small>いわくらともみ</small><br>岩倉具視 | イ <small>おおくぼとしみち</small><br>大久保利通 |
| ウ <small>おおくましのぶ</small><br>大隈重信 | エ <small>いたがたいすけ</small><br>板垣退助   |

② この建白書には、「国の政治は一部の役人によって動かされている」とあります。薩長出身者が政府の重要な職について行った政治を何といいますか。解答らんにあてはまるように答えなさい。

西暦年	おもなできごと
1873	・ <small>せいかんろん</small> 征韓論が出される
1874	・ <small>みんせん</small> a 民選議院設立建白書を提出する
1881	・ 国会開設を約束する
1884	・ 秩父事件がおこる
1885	・ <small>b</small> 内閣制度ができる
(※)	・ <small>c</small> 大日本帝国憲法が公布される
1890	・ <small>d</small> 第1回帝国議会が開かれる

③ この建白書の提出をきっかけに、運動がおこりました。にあてはまることばを答えなさい。

④ ③の運動がかかげた要求にあてはまらないものを次から選び、記号で答えなさい。

- ア 憲法をつくる。    イ ちそ 地租を軽くする。    ウ 国会を開く。    エ ちようへいれい 徴兵令を廃止する。

(3) 下線部 b について、初代内閣総理大臣になった人物の名を答えなさい。

(4) 下線部 c について、次の問いに答えなさい。

① この憲法をつくる際に、政府が参考にした国の名を答えなさい。

② ①で答えた国の憲法を参考にした理由を述べた文として、正しいものを次から選び、記号で答えなさい。

- ア 軍隊をもたない平和的な憲法だから。    イ 国民の権利がすべて認められた憲法だから。  
ウ くんしゆ 君主に主権が認められた憲法だから。    エ 国民に主権が認められた憲法だから。

③ この憲法の内容として、正しくないものを次から選び、記号で答えなさい。

- ア 内閣は、天皇の政治を助け、天皇に対して責任を負うことになりました。  
イ 国民の自由と権利は、法律の許す範囲内で認められることになりました。  
ウ 「天皇は しんせい 神聖にして おか 侵すべからず」と定められ、主権者とされました。  
エ 内閣総理大臣や知事・市長は、国民の選挙によって選ばれることになりました。

(5) 下線部 d について、衆議院議員の選挙権をもっていた人を次から選び、記号で答えなさい。

- ア 直接国税15円以上を納める、満25歳以上の男子。  
イ 直接国税15円以上を納める、満25歳以上の男女。  
ウ 間接国税15円以上を納める、満20歳以上の男子。  
エ 間接国税15円以上を納める、満20歳以上の男女。

2 次のⅠ～Ⅲの文は、江戸時代に行われた3つの大きな改革について述べたものです。これを読んで、あとの問いに答えなさい。

Ⅰ  
 を解散し、取り引きを自由にして物価の引き下げをはかりましたが、かえって経済が混乱してしまいました。また、都市に集まった出かせぎの農民を強制的に村に帰らせるようにしました。

Ⅱ  
 学問や武芸を奨励する一方、 以外の学問を禁じました。また、凶作やききんに備えて米をたくわえさせました。しかし、この改革はきびしすぎたため評判が悪く、改革は失敗に終わりました。

Ⅲ  
 農民の年貢を、四公六民から五公五民に引き上げました。また、商人の財力を利用して新田を開発したり、 を設けて人々の意見を聞き、政治の参考にしたりしました。

(1)  にあてはまることばをア～エから、 にあてはまることばをオ～クからそれぞれ選び、記号で答えなさい。

- |      |      |       |       |
|------|------|-------|-------|
| ア 座  | イ 問丸 | ウ 定期市 | エ 株仲間 |
| オ 国学 | カ 蘭学 | キ 朱子学 | ク 陽明学 |

(2)  にあてはまることばを、漢字3字で答えなさい。

(3) Ⅰの文が述べている改革が始まる数年前に、大阪町奉行の元役人が反乱を起こしました。この人物の名を答えなさい。

(4) Ⅱの文の波線部に最も関係の深いものを次から選び、記号で答えなさい。

- ア 鳴かぬなら 鳴くまでまとう ほととぎす  
 イ 世の中に 蚊ほどうるさき ものはなし ぶんぶというて 夜もねられず  
 ウ この世をば わが世とぞ思ふ 望月の かけたることも なしと思へば  
 エ ごまの油と百姓は しばればしぼるほど出るものなり

(5) Ⅰ～Ⅲの文が述べている改革を行った人物の正しい組み合わせを次から選び、記号で答えなさい。

	ア	イ	ウ	エ
Ⅰ	徳川秀忠	徳川吉宗	水野忠邦	水野忠邦
Ⅱ	徳川吉宗	松平定信	松平定信	徳川秀忠
Ⅲ	松平定信	水野忠邦	徳川吉宗	松平定信

(6) Ⅰ～Ⅲの文の下線部の内容に共通してみられる幕府の基本的なねらいとして、正しいものを次から選び、記号で答えなさい。

- ア 貨幣の流通を増やすこと。      イ 商業活動を保護すること。  
 ウ 農民の地位を向上させること。      エ 年貢の納入を確保すること。

(7) Ⅰ～Ⅲの文が述べているような改革にもかかわらず、幕府はその政治を立て直すことができませんでした。その理由として、正しいものを次から選び、記号で答えなさい。

- ア 朝廷方が、政治の実権を幕府からうばい返そうとして、西国の御家人をよび集め、ついに倒幕の兵をあげたから。  
 イ 戦国大名が、幕府から独立して政治を行い、領国内の統制を確実にすることをめざして、分国法を定めるようになったから。  
 ウ 明との貿易によってさかえた港町が、町の周囲に堀をめぐらし、軍備をととのえ、大名に対抗する力をたくわえるようになったから。  
 エ 自給自足をたてまえとする農村がくずれたり、貨幣の流通が広まるようになって成長した町人の力が強くなり、幕府の権威や身分の上下関係が弱まってきたから。

3 右下の年表を見て、次の問いに答えなさい。

(1) 年表中の( A )にあてはまる年を算用数字で答えなさい。

(2) 年表中の [ B ] ・ [ C ] にあてはまる都市の名をそれぞれ漢字で答えなさい。

(3) 下線部 a に関係のない人物を右下の資料から選び、記号で答えなさい。

(4) 下線部 b を行った人物を次から選び、記号で答えなさい。

- |        |        |
|--------|--------|
| ア 徳川綱吉 | イ 徳川慶喜 |
| ウ 徳川家光 | エ 徳川秀忠 |

(5) 下線部 c の内容にあてはまらないものを次から選び、記号で答えなさい。

- ア 政治は会議を開いて、みんなの意見で決める。  
 イ 大ぜいで願いごとをしたり村から逃げ出したり、一揆をおこしてはならない。  
 ウ 身分の高い人も低い人も一致して、国を治めなければならない。  
 エ 封建時代の古いならわしをやめさせ、道理に合うやり方をしよう。

(6) 下線部 d ・ e について述べた文として、正しくないものを次から選び、記号で答えなさい。

- ア 藩を廃止して府・県を置き、政府の任命した役人に各府県の政治を行わせました。  
 イ 天皇中心の中央集権国家の土台がきずかれることになりました。  
 ウ 版籍奉還に不満をもつ大名たちが、これに対抗して戊辰戦争をおこしました。  
 エ 大名の治めている土地と人民を朝廷に返させました。

(7) 下線部 f をつくるにあたって、富岡が選ばれた理由として、正しいものを次から選び、記号で答えなさい。

- |                 |               |
|-----------------|---------------|
| ア 工業地帯にあったから。   | イ 貿易港に近かったから。 |
| ウ 綿花の栽培地帯だったから。 | エ 養蚕地帯にあったから。 |

(8) 下線部 g について、兵役の義務を負うようになったのは、満何歳以上の男子でしたか。解答らんには合うように算用数字で答えなさい。

(9) 下線部 h の内容として、正しいものを次から選び、記号で答えなさい。

- ア 土地の耕作者が、収穫量の 3% を米で納めることになりました。  
 イ 土地の耕作者が、地価の 3% を現金で納めることになりました。  
 ウ 土地の所有者が、収穫量の 3% を米で納めることになりました。  
 エ 土地の所有者が、地価の 3% を現金で納めることになりました。


西暦年	おもなできごと
1866	・ a 薩長同盟が結ばれる
1867	・ b 大政奉還が行われる
1868	・ c 五か条の御誓文を發布する ・ 都を [ B ] から東京に移す
1869	・ d 版籍奉還を行う
1871	・ e 廃藩置県を行う
1872	・ 新橋～ [ C ] 間に鉄道が開通する ・ f 富岡製糸場がえられる
( A )	・ g 徴兵令が出される ・ h 地租改正が行われる

【資料】


ア




イ




ウ



エ



4 次のA～Cの史料を見て、あとの問いに答えなさい。



(1) 史料Aについて、次の問いに答えなさい。

① この戦争の後に結ばれた条約について述べた文として、正しいものを次から選び、記号で答えなさい。

- ア 清は、日本に賠償金2億両を支払うことになりました。
- イ ロシアは、南樺太を日本にゆずることになりました。
- ウ 清は、朝鮮を独立国として認めることになりました。
- エ ロシアは、新たに港を開くことになりました。

② この戦争の後、日本は韓国を併合し、植民地にしました。植民地下の朝鮮(韓国)のようすを述べた文として、正しいものを次から選び、記号で答えなさい。

- ア 甲午農民戦争という、朝鮮の農民の大規模な反乱が occurred しました。
- イ 朝鮮の独立を求めて、学生たちが北京で排日運動をおこしました。
- ウ 名前を日本語にかえさせられ、朝鮮語の新聞の発行も禁止されました。
- エ 日本は、韓国皇帝に韓国全部を統治する権利を完全に、永久に譲り渡しました。

(2) 史料Bについて、次の問いに答えなさい。

① この史料に最も関係の深い国を次から選び、記号で答えなさい。

- ア ロシア                      イ ドイツ                      ウ イギリス                      エ フランス

② この事件は、国民に条約改正の必要なことを改めて教えました。条約改正について述べた文として、正しいものを次から選び、記号で答えなさい。

- ア 小村寿太郎がイギリスと交渉して、治外法権の撤廃に成功しました。
- イ 大隈重信がアメリカと交渉して、関税自主権の回復に成功しました。
- ウ 大隈重信がイギリスと交渉して、関税自主権の回復に成功しました。
- エ 陸奥宗光がイギリスと交渉して、治外法権の撤廃に成功しました。

(3) 史料Cについて、次の問いに答えなさい。

① この戦争の講和条約が結ばれた都市を右の地図のA～Eから選び、記号で答えなさい。

② ①の条約で、日本は遼東半島・台湾・澎湖諸島を領土に編入することができました。遼東半島を右の地図のオ～クから選び、記号で答えなさい。

③ ①の条約の内容が明らかになると、ロシアはドイツとフランスをさそい、日本に対して遼東半島を中国に返すよう強く要求してきました。この動き(できごと)を何といいますか。

(4) 史料A・B・Cで表わされたできごとを、解答らんには合うように、古い順に並べかえなさい。

